



OLIMPIADA ȘCOLARĂ DE GEOGRAFIE
ETAPA LOCALĂ – 14.02.2026
CLASA a XII-a

VARIANTA 1

- **Toate subiectele sunt obligatorii. Se acordă 10 puncte din oficiu.**
- **Timpul efectiv de lucru este de 3 ore.**

Subiectul I (20 puncte)

Precizați litera corespunzătoare răspunsului corect:

1. Altitudinea medie a reliefului Europei este de:
a. 240m b. 340 m c. 440m d. 540m
2. Nu face parte din grupul statelor carpatice:
a. Bulgaria; b. Polonia; c. Ungaria; d. Slovacia
3. Râurile Drava și Sava sunt afluenții:
a. Dunării b. Niprului c. Padului d. Volgăi
4. Cea mai mare cantitate de precipitații din România (cca 1500mm/an) se înregistrează în munții:
a. Bucegi b. Făgăraș c. Rodnei d. Vlădeasa
5. Din munții Pădurea Craiului se exploatează resurse de :
a. bauxită b. cărbune c. cupru d. petrol
6. Din punct de vedere genetic lacul Zăton este de origine:
a. carstică b. glaciară c. tectonică d. vulcanică
7. Pădurile nemorale sunt întâlnite în România până la altitudini de :
a. 600 m b. 800m c. 1200 m d. 1600 m
8. Stațiunea turistică de iarnă Chamonix este localizată în statul:
a. Polonia b. Bulgaria c. Franța d. Serbia
9. Contingentul cel mai numeros de 550.000 de persoane a fost înregistrat, în România, în anul:
a. 1950 b. 1967 c. 1989 d. 2005
10. Populația saami face parte din grupa lingvistică:
a. uralică b. celtică c. slavă d. romanică

Subiectul II (20 puncte)

Pe harta Europei, de mai jos, sunt notate cu numere de la **1** la **5** areale cu zone/tipuri de vegetație și cu litere de la **A** la **E** imagini cu peisaje specifice.

a. Asociați litera corespunzătoare fiecărui peisaj cu numărul corespunzător zonei/ tipului de vegetație de pe harta, *conform modelului*: F – 6.

b. Precizați denumirea peisajului ilustrat în fiecare din imaginile de mai jos corespunzător zonei de vegetație;

c. Pentru arealul, notat cu numărul **2**:

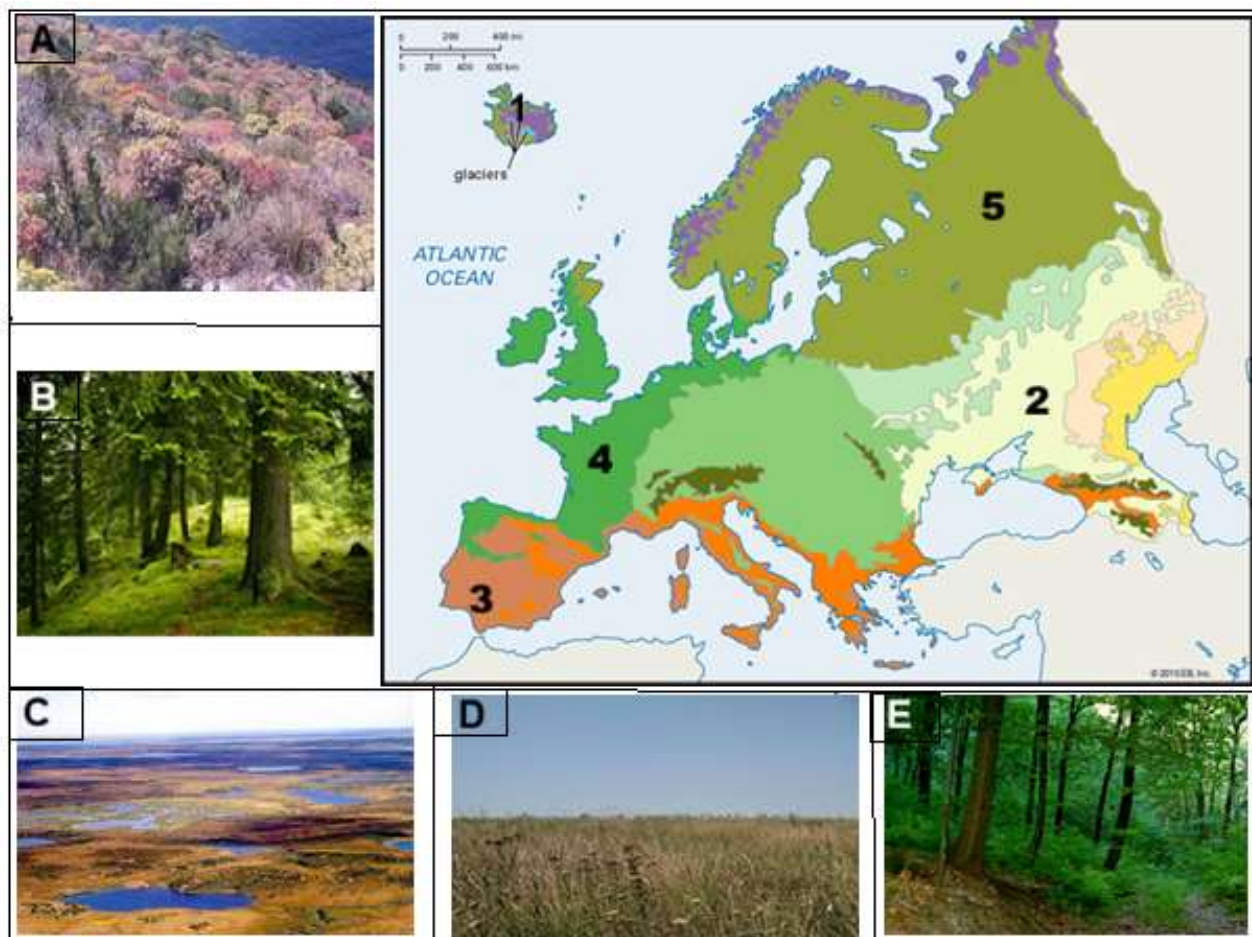
1. precizați un exemplu de specie floristică,
2. precizați categoria din care fac parte speciile floristice;
3. explicați lipsa pădurilor.

d. Pentru arealul, notat cu numărul **1**, prezentați un mod de adaptare al organismelor la condițiile climatice.

e. Pentru arealul, notat cu numărul **3**, precizați denumirea a două asociații floristice.

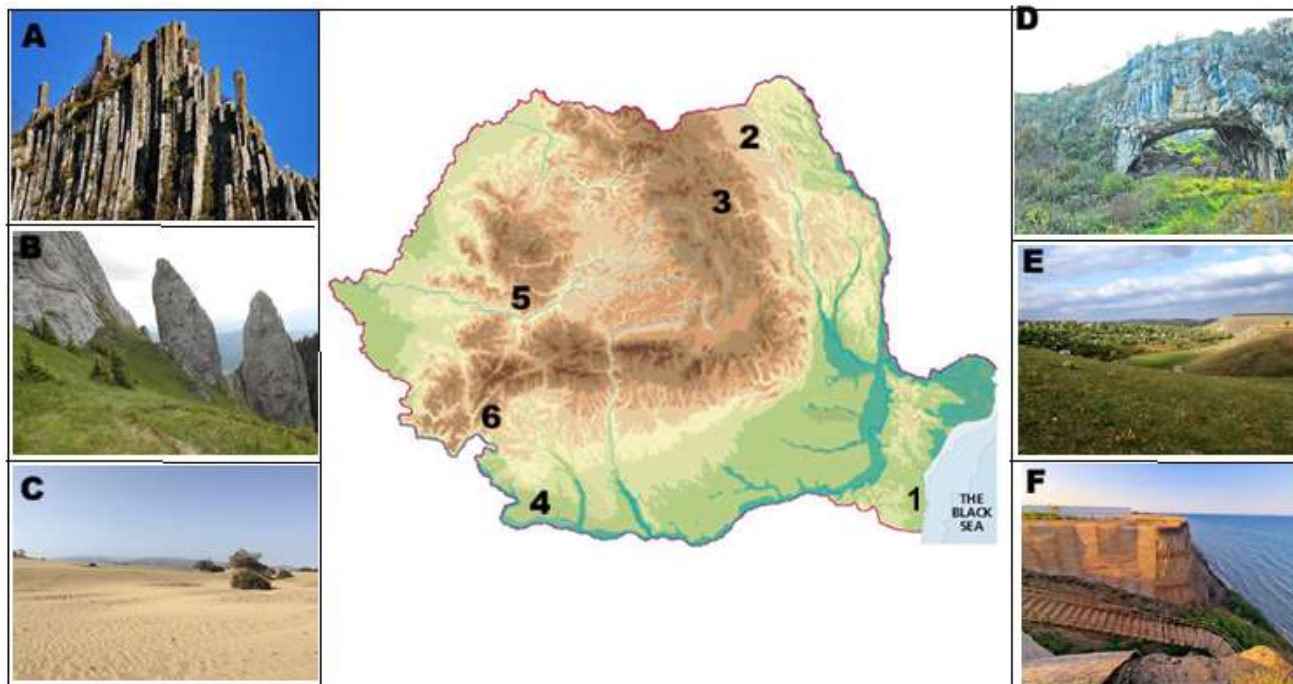
f. Pentru arealul, notat cu numărul **4**, prezentați două caracteristici climatice ce influențează apariția peisajului specific.

g. Pentru arealul, notat cu numărul **5**, precizați un tip/clasă de sol caracteristic.



SUBIECTUL III (28 puncte)

Analizați harta și imaginile de mai jos și răspundeți următoarelor cerințe:



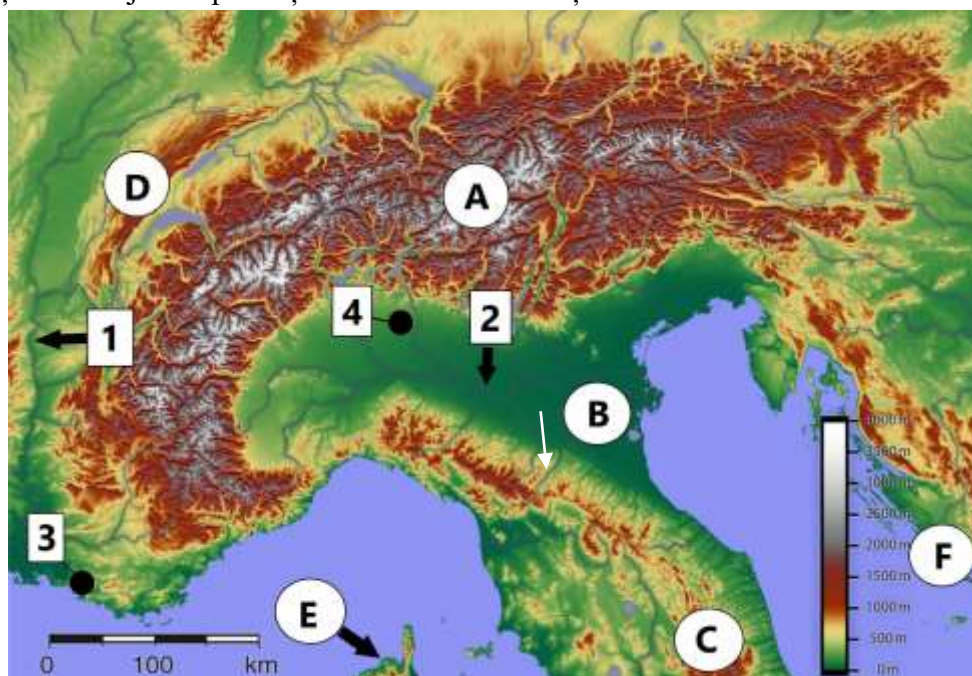
1. precizați tipurile genetice de relief din imaginile notate, cu litere, de la A la F;
2. corelați fiecare tip genetic de relief identificat la punctul 1 cu unitățile/subunitățile de relief corespunzătoare, notate pe hartă, cu cifre de la 1 la 6;

3. identificați două râuri ce limitează subunitatea de relief notată cu numărul 2.
4. precizați două subunități de relief din Carpații românești cu aceeași alcătuire petrografică ca cea a diviziunii notate cu numărul 6.
5. Pentru unitatea de relief notată cu numărul 6 prezentați:
 - a. particularitatea din punct de vedere bioclimatic;
 - b. două particularități morfogenetice.
6. Numiți și precizați tipul de vale din partea sudică a subunității de relief, notată pe hartă, cu numărul 5.
7. Prezentați doi factori care au favorizat formarea reliefului din subunitatea notată cu numărul 4.
8. Precizați o influență climatică din unitatea, notată cu numărul 2 și precizați un mod de manifestare a acesteia.
9. Precizați două tipuri genetice de lacuri din unitatea de relief notată cu numărul 1.

Subiectul IV

(22 puncte)

Pe baza hărții de mai jos răspundeți la următoarele cerințe:



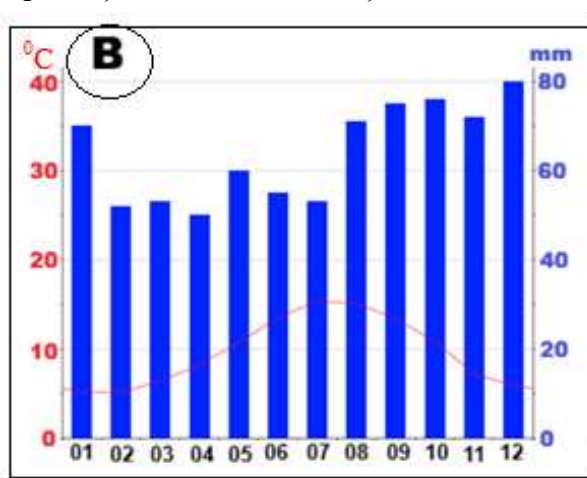
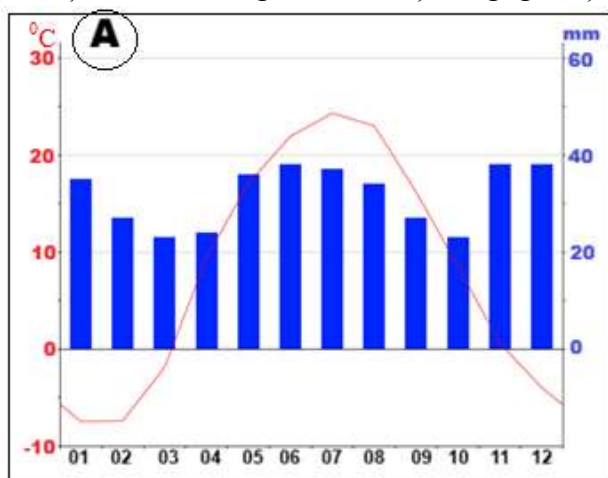
(Sursa: <https://ro.wikipedia.org/wiki>)

1. Precizați numele unităților de relief marcate pe hartă cu literele A, B, C și D.
2. Pentru unitatea de relief marcată pe hartă cu litera C precizați:
 - a. modul de formare;
 - b. două tipuri genetice de relief;
 - c. vârful și altitudinea maximă;
 - d. orientarea culmilor și văilor principale,.
3. Precizați tipul de țărniță întâlnit în arealul notat cu litera F;
4. Precizați numele insulei notate cu litera E și statul de care aparține;
5. Identificați râul notat cu numărul 1 și vântul care se manifestă de-a lungul acestei văi.
6. Precizați forma/tipul gurii de vărsare și doi afluenți pentru râul marcat pe hartă cu cifra 2;
7. Precizați numele orașului pe hartă cu numărul 3 și perioada de apariție.
8. Precizați numele orașului pe hartă cu numărul 4 și un obiectiv turistic de importanță cel puțin europeană.

Subiectul V

(10 puncte)

Analizați climogramele de mai jos, notate cu literele **A** și **B**, care au fost realizate folosind datele de la stațiile meteorologice Dublin și Volgograd și răspundeți următoarelor cerințe.



- Stabiliți corespondența dintre diagramele climatice și stațiile meteorologice.
- Precizați tipurile de climă corespunzătoare celor două climograme.
- Determinați amplitudinea termică la stația meteorologică Dublin.
- Prezentați un factor ce determină valoarea cantității medii de precipitații într-un an la stația meteorologică Volgograd;
- Precizați doi factori care determină tipul de climă din regiunea orașului Dublin.